

**Тестовые задания**  
**школьного этапа олимпиады по технологии 2020 - 2021 уч.г.**  
**Раздел «Культура дома, дизайн и технологии»**  
**7-8 класс**

*Материаловедение.*

**Инструкция:** выберите все правильные ответы

**Задание 1. Перечислите преимущества химических волокон перед натуральными:**

- а) такие волокна способны сжиматься;
- б) стоимость готовой продукции гораздо дешевле ;
- в) их производство не зависит от природных и климатических условий;
- г) такие волокна способны сохранять тепло;

**Инструкция:** выберите правильный ответ

**Задание 2. Как называется бабочка, которую в основном разводят для получения шелковых волокон**

- а) переливница тополевая;
- б) крапивница;
- в) тутовый шелкопряд;
- г) капустница;
- д) перламутровка большая.

**Инструкция:** выберите правильный ответ

**Задание 3. Волокнистый нетканый материал, который применяют в качестве прокладочного материала для утепления швейного изделия или придания ему толщины называются**

- а) синтепон;
- б) клеевая прокладка;
- в) прокладка-корсаж;
- г) клеевая паутинка.

*Технология обработки швейных изделий.*

**Задание 4. Расположите технологические операции изготовления юбки при индивидуальном пошиве в правильном порядке.**

Название операции

- 1 проведение примерки
- 2 подготовка изделия к примерке
- 3 подготовка ткани к раскрою
- 4 подготовка выкройки
- 5 окончательная отделка, ВТО
- 6 раскрой изделия и подготовка деталей кроя
- 7 снятие мерок
- 8 раскладка выкройки на ткани
- 9 пошив изделия

Запишите соответствующие цифры без пробелов (например, 123456789)

---

*Технология обработки пищевых продуктов.*

**Инструкция:** выберите правильный ответ.

**Задание 5. Основными источниками кальция являются**

- а) молоко и молочные продукты;
- б) хлеб;
- в) рыба;
- г) картофель

**Инструкция:** выберите правильный ответ.

**Задание 6. Источником энергии и пищевых веществ является:**

- а) пищевые жиры и масла;
- б) вода;
- в) пища;

**Инструкция:** выберите правильный ответ.

**Задание 7.** Отличительной особенностью бисквитного теста является то, что в него не добавляют какие-то специальные разрыхлители. А для того, чтобы сделать бисквитное тесто пористым, в него нужно добавить ...

- а) соль;
- б) взбитые яичные белки;
- в) молоко.

**Художественная обработка материалов.**

**Инструкция:** выберите правильный ответ

**Задание 8.** В какой технике выполнено изделие, изображённое на рисунке?



- а) декупаж
- б) канзаши
- в) квиллинг
- г) пэчворк

**Инструкция:** выберите правильный ответ

**Задание 9.** Что можно изготовить из пряжи, не пользуясь обычными спицами и крючком?

- а) кофту;
- б) носки;
- в) помпон;
- г) варежки;

**Современный дизайн (интерьер жилого дома)**

**Задание 10.** Специалисты каких профессий могли трудиться над созданием интерьера, изображенного на картинке? Перечислите их.



Ответ: \_\_\_\_\_  
\_\_\_\_\_

## Семейная экономика

**Задание 11.** Заполните таблицу, распределив представленные ниже статьи семейного бюджета на доходы и расходы

Семейные доходы	Семейные расходы
А	Б

Статьи семейного бюджета:

1. Накопления, сбережения
2. Коммунальные платежи
3. Заработная плата членов семьи
4. Культурно-бытовые услуги (развлечения или отдых)
5. Доход от личного подсобного хозяйства
6. Сдача недвижимости и других средств в аренду
7. Питание
8. Пенсии, стипендии, пособия

Ответ: А \_\_\_\_\_ ; Б \_\_\_\_\_.

### Конструирование швейных изделий.

**Инструкция:** выберите правильный ответ

**Задание 12.** Перед снятием мерок необходимо:

- а) определить линию талии;
- б) определить линию бедер;
- в) определить длину изделия.

### Творческая проектная деятельность.

**Инструкция:** выберите все правильные ответы

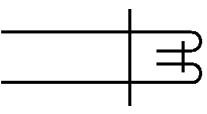
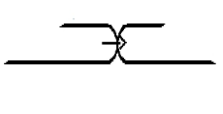
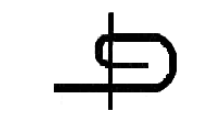

**Задание 13.** Назовите основные этапы творческого проекта:

- а) организационно - подготовительный ;
- б) экономический
- в) творческий
- г) технологический
- д) заключительный

### Машиноведение.

Впишите правильные ответы в строчку для ответа.

**Задание 14.** Установите соответствие между изображением машинных швов и их названиями.

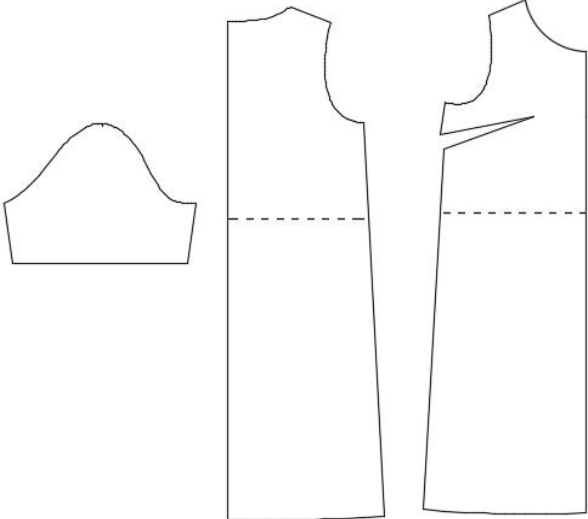
А 	Б 	В 	Г 
1. Стачной	2. Накладной	3. Вподгибку	4. Двойной

Ответ: А \_\_\_\_, Б \_\_\_\_, В \_\_\_\_, Г \_\_\_\_.

**Задание 15. Творческое задание.** Оценка за творческое задание – 10 баллов.

Внимательно рассмотрите предложенные детали кроя.

1. Выполните эскиз модели платья согласно предложенным деталям кроя.

 <p>детали кроя</p>	<p>1. Эскиз (2 балла)</p>
--	---------------------------

2. Опишите модель по предложенной схеме. Ответы внесите в таблицу:

а) (1 балл) Наименование и назначение изделия: _____ _____
б) (1 балл) Силуэт : _____ _____
в) (1 балл) Вид застёжки: _____ _____
г) (2 балла) Перечислите детали платья и их количество _____ _____
д) (1 балл) Предложите вариант декоративной отделки платья: _____ _____
е) (1 балл) Предложите ткани, из которых можно сшить такое платье: _____ _____
ж) (1 балл) Перечислите инструменты и оборудование, необходимые для изготовления данного изделия: _____ _____ _____ _____

